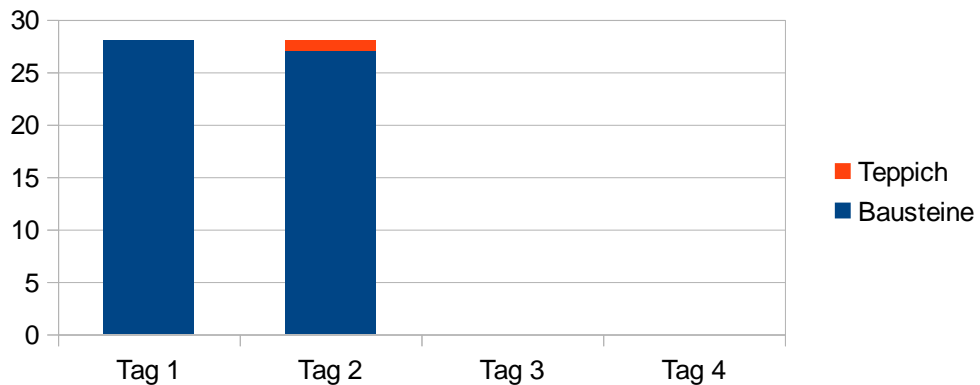
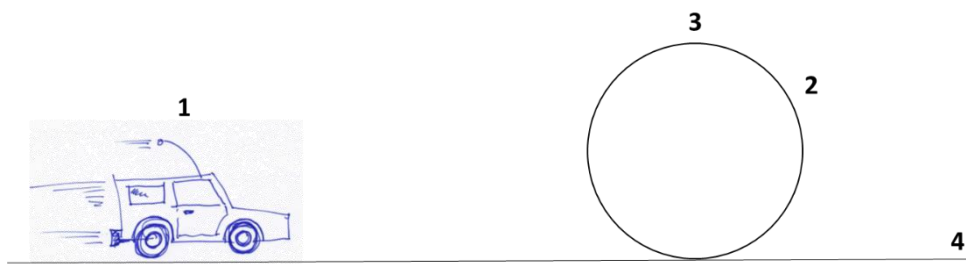


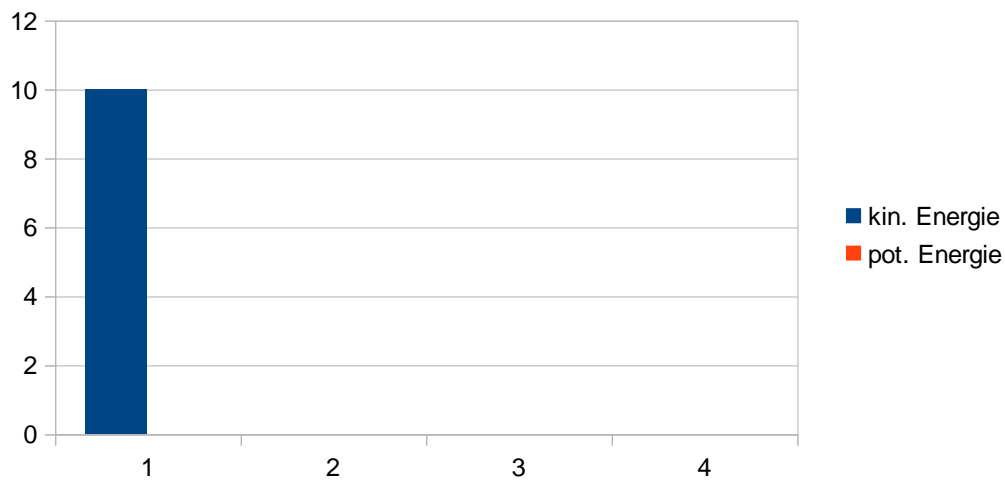
Die verschwundenen Bausteine

- In das Diagramm sind die Bausteine von Dennis am ersten Morgen und dann am nächsten Tag eingetragen. Suche zwei weitere Tage im Text heraus und trage die Bausteine ein. Beschrifte entsprechend!



- Übertrage deine Überlegungen auf den Begriff der Energie. Ein Auto durchfährt einen Looping. Für die Position 1 ist die kinetische Energie bereits eingezeichnet. Die potenzielle Energie soll hier Null sein. Vervollständige das Diagramm für die weiteren Positionen!





3. Denk an das Spiel Fangbecher! Zeichne ein Diagramm zu folgenden Situationen und beschrifte es!

- 1: Ball ganz unten und Feder ist gespannt
- 2: Feder ist entspannt und Ball wird in Bewegung gesetzt
- 3: Ball ganz oben

Lösungsmöglichkeiten:

